

Exercice 1 (5 points)

1. On place un projecteur, qui est donc une source de lumière ponctuelle, au point **H**.
  - a) Sur ce dessin représenter l'ombre du mât sur le sol. (Voir la figure de l'annexe 1 ci-dessous)  
On place le point **n**, intersection des droites **(BM)** et **(HN)**. L'ombre du mat sur le sol est le segment **[Mn]**.
  - b) On note **P** le milieu du mât. Construire l'ombre **p** du point **P**.  
**p** est l'intersection de **(HP)** et de **(BM)**.  
On remarque que **p** n'est pas le milieu de **[Mn]**. (non demandé)
  
2. À une certaine heure, les rayons du soleil sont parallèles à la droite **(GC)**.
  - a) Sur l'annexe 2, représenter l'ombre au soleil du mât sur le sol à cette heure. (voir la figure de l'annexe 2 ci-dessous)  
On place le point **N'**, intersection de **(BM)** et de la parallèle à **(GC)** passant par **N**.  
L'ombre au soleil du mât est le segment **[MN']**
  - b) L'ombre au soleil du milieu du mât est-elle le milieu de l'ombre du mât ? Justifier.  
Oui, l'ombre au soleil du milieu est le milieu de l'ombre car les rayons du soleil sont des droites parallèles et, en application du théorème de Thalès, si **P** est le milieu de **[MN]**, alors **P'** est le milieu de **[MN']**.

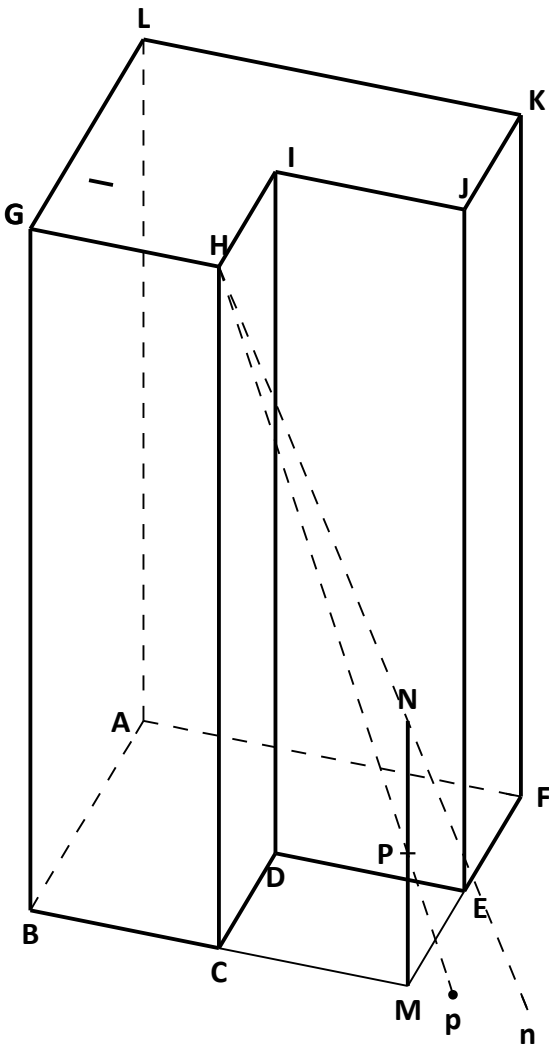


figure de l'annexe 1

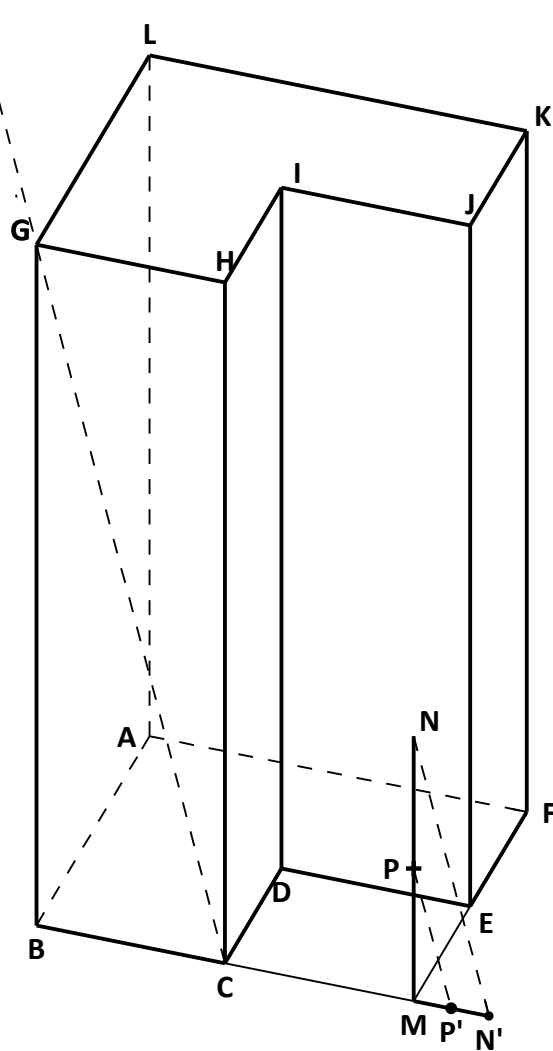


figure de l'annexe 2

3. Construction en perspective centrale (voir figure de l'annexe 3 page suivante)
  - a) Construction des points **c**, **d** et **e**.  
Puisque le segment **[BM]** est dans un plan frontal, son milieu **C** est représenté au milieu **c** de **[bm]**.  
Le point de fuite principal est le point **F**, intersection de **(mf)** et de la ligne d'horizon  $(\delta)$ .  
Le point **d** est l'intersection des droites **(cF)** et **(bf)**.  
Le point **e** est l'intersection de **(kF)** et de la parallèle à **(bm)** passant par **d**.

b) Compléter la construction.

(δ)

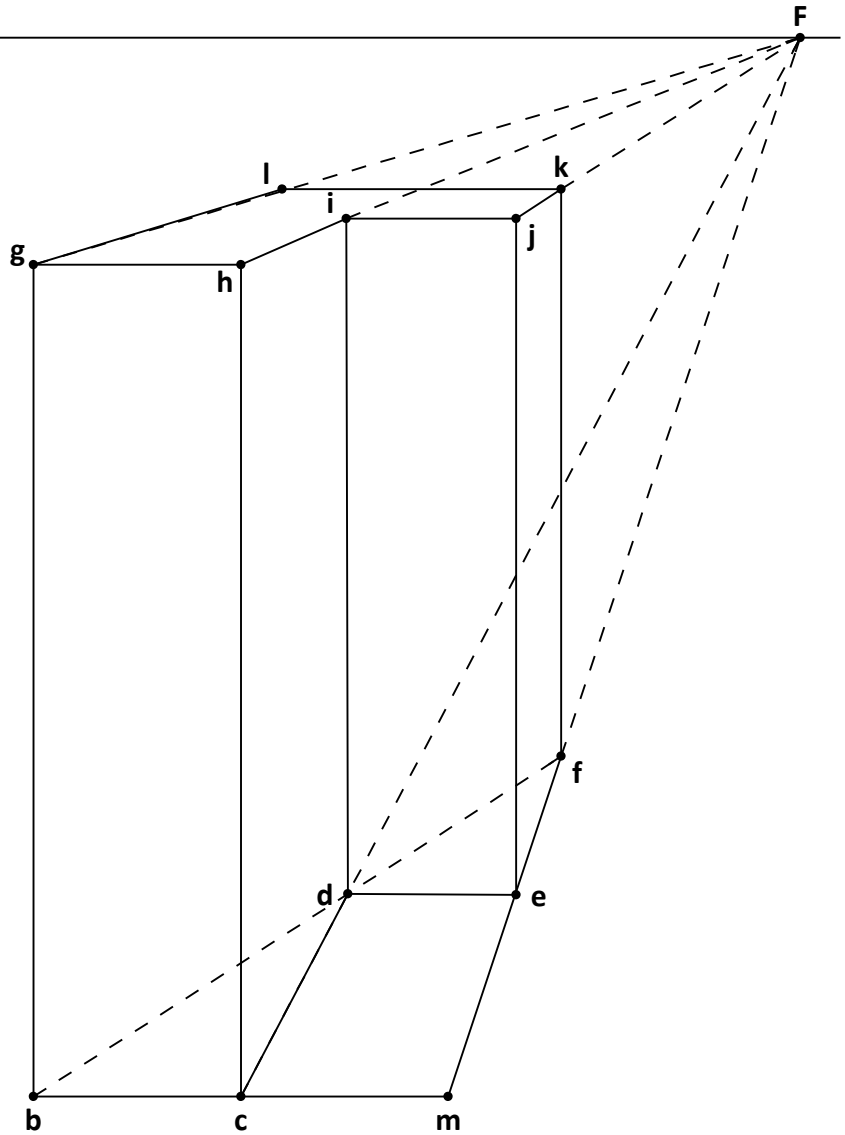
**h** est le 4<sup>e</sup> point du rectangle dont les 3 premiers sommets sont **b**, **c** et **g**.

**i** est l'intersection de (**hF**) et de la parallèle à (**bg**) passant par **d**.

**j** est le 4<sup>e</sup> point du rectangle dont les 3 premiers sommets sont **i**, **d** et **e**.

**k** est l'intersection de (**jF**) avec la parallèle à (**bg**) passant par **f**.

**l** est l'intersection de (**gF**) et de la parallèle à (**bm**) passant par **k**.



**Exercice 2 (6 points)**

La suite  $U$  est définie par :  $U_0 = 0$  et,

pour tout entier naturel  $n$ , par :  $U_{n+1} = U_n + 2(n+1)$ .

1. Montrer que  $U_1 = 2$  et que  $U_2 = 6$ . Calculer  $U_3$ .

On a :  $U_1 = U_0 + 2 \times 1 = 0 + 2 = 2$

$U_2 = U_1 + 2 \times 2 = 2 + 4 = 6$

$U_3 = U_2 + 2 \times 3 = 6 + 6 = 12$

2. Chacune des 3 propositions suivantes est-elle vraie ou fausse ? Justifier les réponses.

Proposition 1 : « La suite  $U$  est arithmétique » : FAUX, car  $U_1 - U_0 = 2$  et  $U_2 - U_1 = 4$

Proposition 2 : « Il existe au moins une valeur de  $n$  pour laquelle  $U_n = n^2 + 1$  » : VRAI car  $\begin{cases} U_1 = 2 \\ 1^2 + 1 = 2 \end{cases}$

Proposition 3 : « Pour toutes les valeurs de  $n$ , on a :  $U_n = n^2 + 1$  » : FAUX car  $U_0 \neq 1$ ;  $U_2 \neq 5$  ...

3. On considère l'algorithme suivant :

Entrée :  $N$  est un entier naturel non nul.

Initialisation :  $P = 0$

Traitement : Pour  $K$  allant de 0 à  $N$  :

Affecter à  $P$  la valeur  $P + K$

Afficher  $P$

Fin de l'algorithme

Remarques personnelles :

- Pourquoi y a-t-il "fin de l'algorithme" et pas "début de l'algorithme" ?
- Pourquoi l'initialisation de la variable  $P$  est-elle " $P = 0$ " au lieu de "Affecter 0 à  $P$ " ?

- Pourquoi la structure itérative ne se termine-t-elle pas par "Fin Pour" ?

a) Faire fonctionner cet algorithme avec  $N = 3$ .

Étapes		$N$	$P$	$K$	Affichage de $P$
Entrée		3			
Initialisation			0		
Traitement	Pour $K = 0$		0	0	
	$P$ prend la valeur $P + K$		0		0
	Pour $K = 1$		0	1	
	$P$ prend la valeur $P + K$		1		1
	Pour $K = 2$		1	2	
	$P$ prend la valeur $P + K$		3		3
	Pour $K = 3$		3	3	
$P$ prend la valeur $P + K$		6		6	

Non, on n'obtient pas les valeurs des quatre premiers termes de la suite  $U$ . On obtient 0, 1, 3, 6 au lieu de 0, 2, 6, 12.

b) Modifier cet algorithme de manière à obtenir à l'affichage les valeurs des  $N$  premiers termes de la suite  $U$ . D'après la définition de la suite  $U$ , chaque nouveau terme s'obtient en lui ajoutant le double de son indice. On en déduit l'algorithme modifié :

**Entrée :**  $N$  est un entier naturel non nul.  
**Initialisation :**  $P = 0$   
**Traitement :** Pour  $K$  allant de 0 à  $N$  :  
    **Affecter à  $P$  la valeur  $P + 2K$**  ← modification  
    **Afficher  $P$**   
**Fin de l'algorithme**

4. Raisonnement par récurrence

a) Montrer que, pour tout entier naturel  $k$ ,  $(k^2 + k) + 2(k + 1) = (k + 1)^2 + k + 1$

On a :  $(k^2 + k) + 2(k + 1) = k^2 + k + 2k + 2 = k^2 + 3k + 2$  d'une part,

et :  $(k + 1)^2 + k + 1 = (k^2 + 2k + 1) + k + 1 = k^2 + 3k + 2$  d'autre part.

Donc les 2 expressions sont bien égales.

b) Démontrer par récurrence que, pour tout entier naturel  $n$ ,  $U_n = n^2 + n$ .

- Pour les premières valeurs de  $n$ , cette propriété est vraie :  
 $0^2 + 0 = 0 = U_0$ ;  $1^2 + 1 = 2 = U_1$ ;  $2^2 + 2 = 6 = U_2$ ;  $3^2 + 3 = 12 = U_3$ .
- Prenons un entier  $n$  pour lequel on a effectivement l'égalité  $U_n = n^2 + n$ .  
Alors :  $U_{n+1} = U_n + 2(n + 1)$   
 $U_{n+1} = (n^2 + n) + 2(n + 1)$  d'après l'hypothèse de récurrence  
 $U_{n+1} = (n + 1)^2 + (n + 1)$  d'après la question 4.a)  
Donc la propriété est transmissible d'un entier  $n$  à l'entier suivant  $n + 1$ .
- Donc pour tout entier naturel  $n$ , la propriété  $U_n = n^2 + n$  est vraie.

### Exercice 3 (4 points)

La fonction  $f$  est définie sur l'intervalle  $[1 ; 15]$  par  $f(x) = 2 + 3 \ln x$ .

1. Calculer  $f'(x)$ , pour tout nombre réel  $x$  de l'intervalle  $[1 ; 15]$ .

On sait que la dérivée de la fonction  $x \mapsto \ln x$  est la fonction  $x \mapsto \frac{1}{x}$

Donc :  $f'(x) = 0 + 3 \times \frac{1}{x}$

Donc :  $f'(x) = \frac{3}{x}$ .

2. Déterminer le coefficient directeur de la tangente à  $\mathcal{C}$  en son point d'abscisse 1.

Le coefficient directeur de la tangente à la courbe  $\mathcal{C}$  en son point d'abscisse 1 est  $f'(1)$ .

Or  $f'(1) = 3$ .

**Donc le coefficient directeur de la tangente à la courbe  $\mathcal{C}$  en son point 1 est 3.**

*Remarque : certains candidats auront certainement mal lue la question et calculer l'équation de la tangente ...*

3. Résoudre l'équation  $f(x) = 8$ .

Cette équation équivaut successivement à :

$$\begin{aligned}2 + 3 \ln x &= 8 \\3 \ln x &= 6 \\ \ln x &= 2 \\ x &= e^2\end{aligned}$$

**Donc l'équation  $f(x) = 8$  a pour unique solution  $x = e^2$ .**

4. Parmi les 3 représentations graphiques données, une seule représente la fonction  $f$ . Préciser laquelle en justifiant :

- la dérivée de  $f$  est définie par  $f'(x) = \frac{3}{x}$  et est donc strictement positive sur  $[1 ; 15]$

Donc la fonction  $f$  est croissante sur  $[1 ; 15]$ .

On peut donc éliminer la courbe n° 2.

- l'équation  $f(x) = 8$  a pour solution  $x = e^2$ . Donc la courbe  $\mathcal{C}$  passe par le point de coordonnées  $(e^2 ; 8)$ .  
or  $2 < e < 3$  donc  $4 < e^2 < 9$

On peut donc éliminer la courbe n° 3 car son point d'ordonnée 8 a pour abscisse 13 environ.

- **La bonne courbe est donc la courbe n° 1.** (on aurait pu dire directement que c'est la seule courbe qui passe par le point de coordonnées  $(e^2 ; 8)$ ...)

#### Exercice 4 (5 points)

1. Justifier que  $10^3 \equiv -1 \pmod{13}$

On sait que 2 nombres sont congrus modulo  $n$  si et seulement si leur différence est un multiple de  $n$ .

On a :  $10^3 - (-1) = 1001$

Or 1001 est un multiple de 13 car  $77 \times 13 = 1001$

**Donc  $10^3$  et  $(-1)$  sont bien congrus modulo 13.**

2. a) En déduire le reste de la division euclidienne de  $10^6$  par 13.

On sait que :  $10^6 = (10^3)^2$

Or on a vu que :  $10^3 \equiv -1 \pmod{13}$

Donc :  $(10^3)^2 \equiv (-1)^2 \pmod{13}$

Donc :  $10^6 \equiv 1 \pmod{13}$

On sait que le reste de la division euclidienne de  $a$  par  $b$  est  $r$  si et seulement si  $0 \leq r < b$  et  $a \equiv r \pmod{b}$

**Donc le reste de la division euclidienne de  $10^6$  par 13 est 1.**

b) Montrer que  $10^9 \equiv -1 \pmod{13}$  et que  $10^{12} \equiv 1 \pmod{13}$ .

On a :  $10^9 = 10^3 \times 10^6$

Donc :  $10^9 \equiv (-1) \times 1 \pmod{13}$

Donc :  **$10^9 \equiv -1 \pmod{13}$**

De même :  $10^{12} = (10^6)^2$

Donc :  $10^{12} \equiv (1)^2 \pmod{13}$

Donc :  **$10^{12} \equiv 1 \pmod{13}$**

3. Soit l'entier  $N = 5\,292\,729\,824\,628$ .

a) En remarquant que  $N = 5 \times 10^{12} + 292 \times 10^9 + 729 \times 10^6 + 824 \times 10^3 + 628$ , démontrer que  $N \equiv 246 \pmod{13}$ .

On sait que  $10^{12} \equiv 1 \pmod{13}$ , que  $10^9 \equiv -1 \pmod{13}$ , que  $10^6 \equiv 1 \pmod{13}$  et que  $10^3 \equiv (-1) \pmod{13}$

Donc :  $N \equiv 5 \times 1 + 292 \times (-1) + 729 \times 1 + 824 \times (-1) + 628 \pmod{13}$

Donc :  **$N \equiv 246 \pmod{13}$**

b)  $N$  est-il divisible par 13 ?

On a :  $246 \equiv 12 \pmod{13}$  car  $246 = 13 \times 18 + 12$

donc :  $N \equiv 12 \pmod{13}$

**donc  $N$  n'est pas divisible par 13.**